

कक्षा 3 - पर्यावरण अध्ययन
विद्यार्थियों में दक्षता की जाँच हेतु उपकरण

दक्षता – 1

अवलोकन करना एवं पहचानना

- प्रश्न 1. लाल कलगी होती है –
(अ) तोता (ब) कोयल
(स) कौआ (द) मुर्गा
- प्रश्न 2. इनमें से खट्टा फल है –
(अ) इमली (ब) नीम
(स) सेब (द) अनार
- प्रश्न 3. आपके पिता की बहन है –
(अ) मौसी (ब) बुआ
(स) मामी (द) चाची
- प्रश्न 4. पीने योग्य जल मिलता है –
(अ) नदी (ब) तालाब
(स) नल (द) समुद्र
- प्रश्न 5. हमें भोजन करना चाहिए –
(अ) बासी (ब) ताजा
(स) खुला (द) बासी एवं खुला

दक्षता – 2

जानकारी एकत्र करना

- प्रश्न 1. धीरे चलने वाला जीव है –
- (अ) कछुआ (ब) खरगोश
(स) सांप (द) नेवला
- प्रश्न 2. ऐसा पौधा जिसमें कांटे पाए जाते हैं –
- (अ) गेंदा (ब) मोंगरा
(स) गुलाब (द) गुडहल
- प्रश्न 3. कान का काम है –
- (अ) बोलने (ब) सुनने
(स) देखने (द) खाने
- प्रश्न 4. अच्छा घर होता है –
- (अ) धूप वाला (ब) साफ वाला
(स) हवादार (द) उपरोक्त सभी
- प्रश्न 5. सलाद बनाने में उपयोगी है –
- (अ) जिमीकन्द (ब) बरबट्टी
(स) खीरा (द) मुनगा

दक्षता – 3

समानता एवं अंतर करना

- प्रश्न 1. आवाज मीठी होती है -
- (अ) कोयल (ब) कौआ
(स) कबूतर (द) मुर्गा
- प्रश्न 2. कागज से बनता है -
- (अ) बेलन (ब) चिमटा
(स) पुस्तक (द) तवा

- प्रश्न 3. गोलाकार पत्ती पाई जाती है –
 (अ) आम (ब) बेर
 (स) अमरूद (द) जामुन
- प्रश्न 4. पहिया होता है –
 (अ) चपटा (ब) गोल
 (स) चौकोर (द) तिकोना
- प्रश्न 5. लंबी टांगों वाला जीव है –
 (अ) कुत्ता (ब) बिल्ली
 (स) ऊँट (द) गाय

दक्षता – 4

विभिन्न लक्षणों के आधार पर पैटर्न बनाना

- प्रश्न 1. रहने के आधार पर अलग है -
 (अ) शेर (ब) मछली
 (स) भालू (द) लोमड़ी
- प्रश्न 2. पैरों की संख्या के आधार पर सही क्रम है –
 (अ) गाय मुर्गा साँप
 (ब) मुर्गा गाय साँप
 (स) साँप गाय मुर्गा
 (द) साँप मुर्गा गाय
- प्रश्न 3. गर्मी के बाद आता है –
 (अ) गर्मी (ब) सर्दी
 (स) बरसात (द) गर्मी और बरसात
- प्रश्न 4. घर के अंदर खेले जाने वाले खेलों का समूह है –
 (अ) शतरंज, फुटबाल, लूडो (ब) क्रिकेट, फुटबाल, लूडो
 (स) शतरंज, लूडो, कैरम (द) कैरम, क्रिकेट, फुटबाल,

प्रश्न 5. रविवार के बाद आएगा –

(अ) सोमवार

(ब) मंगलवार

(स) गुरुवार

(द) शनिवार

दक्षता – 5

चित्र, नक्शा, पढ़ना एवं बनाना

प्रश्न 1.



चित्र है –

(अ) बकरी

(ब) मछली

(स) गाय

(द) ऊँट

प्रश्न 2.

पेड़ है –

(अ)



(ब)



(स)



(द)



प्रश्न 3.

चाँद है –

(अ)



(स)



(ब)



(द)



प्रश्न 4.

ऊनी कपड़े



पहनते हैं –

(अ) ठंडी

(ब) गर्मी

(स) बरसात

(द) गर्मी एवं बरसात

प्रश्न 5.

उड़ने वाला साधन है –

(अ) रेलगाड़ी

(ब) बैलगाड़ी

(स) बस

(द) हवाई जहाज

कक्षा 4 - पर्यावरण अध्ययन
विद्यार्थियों में दक्षता की जाँच हेतु उपकरण

दक्षता - 1

अवलोकन करना एवं पहचानना

1. इनमें से अनाज है -
(अ) गेहूँ (ब) टमाटर
(स) पालक (द) गोभी
2. लम्बी गर्दन वाला जीव है -
(अ) हिरण (ब) जिराफ
(स) हाथी (द) भालू
3. पानी में पाए जाने वाला पौधा है -
(अ) गुलाब (ब) रातरानी
(स) गेंदा (द) कमल
4. आप अपने चाचा की पत्नी को कहेंगे -
(अ) भाभी (ब) बुआ
(स) चाची (द) मौसी
5. 108 नम्बर का फोन किस साधन को बुलाने के लिए किया जाता है ?
(अ) पुलिस को (ब) डाक को
(स) संजीवनी एम्बुलेंस को (द) फायर ब्रिगेड को

दक्षता - 2

जानकारी एकत्र करना

1. चिकने तने वाला पौधा है -
(अ) जाम (ब) बबूल
(स) बेर (द) आम

2. ऊन मिलता है -
 (अ) मछलियों से (ब) बकरियों से
 (स) भेड़ों से (द) पक्षियों से
3. गरम और ठंडी वस्तुओं की पहचान कैसे करेंगे?
 (अ) देखकर (ब) छूकर
 (स) सुनकर (द) सूंघकर
4. हमारी परछाई लम्बी होती है -
 (अ) सुबह 8 बजे (ब) सुबह 10 बजे
 (स) दोपहर 12 बजे (द) दोपहर 1 बजे
5. इनमें से किस जीव में ऊंगलियाँ नहीं पाई जाती हैं?
 (अ) मुर्गी (ब) बंदर
 (स) मनुष्य (द) गाय

दक्षता – 3

समानता एवं अंतर करना


1. मिलते-जुलते चेहरे होते हैं?
 (अ) भाई-बहन (ब) माता-पिता
 (स) दादा-दादी (द) भैया-भाभी
2. खून चूसने वाला जीव है -
 (अ) तितली (ब) मच्छर
 (स) मधुमक्खी (द) टिड्डा
3. फसल अच्छी होती है -
 (अ) खुरदुरी मिट्टी में (ब) रेतीली मिट्टी में
 (स) चिकनी-काली मिट्टी में (द) चमकीली मिट्टी में
4. मेंढक किस मौसम में टर, टर की आवाज निकालते हैं ?
 (अ) गर्मी (ब) बसंत
 (स) सर्दी (द) बरसात

5. सड़क पार करते समय पैदल चलने वाले लोग किस निशान पर चलते है -
 (अ) हार्स क्रॉस (ब) जेब्रा क्रॉस
 (स) केट क्रॉस (द) डॉग क्रॉस

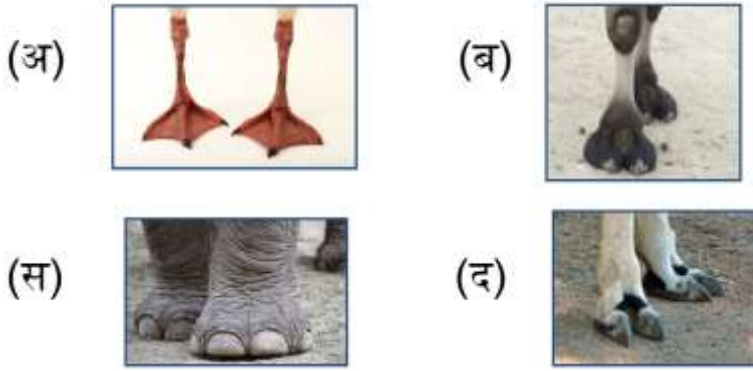
दक्षता - 4

विभिन्न लक्षणों के आधार पर पैटर्न बनाना

1. पूर्णिमा के दिन चांद कैसा दिखाई देता है ?




2. इनमें से किसके पैर पानी में तैरने में मदद करते हैं ?




3. किसी भी दिशा में आगे बढ़ने के लिए आप किस चिन्ह का उपयोग करते है -




4. दिए गए चिड़िया के चित्र में पूंछ बनाने के लिए कौन-सा पैटर्न आएगा -



5. इसमें से पक्षी का संकेत कौन-सा है ?

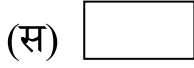
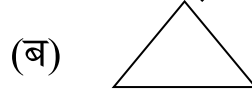
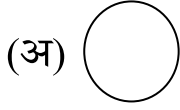
(अ) + (ब) 

(द) ÷ (द) 

दक्षता – 5

चित्र, नक्शा, पढ़ना एवं बनाना

1. नक्शा बनाते समय आप इनमें से कौन-सा चिन्ह पेड़ का बनाएंगे ?



2. हाथी के इस अंग को क्या कहते हैं ?



(अ) आँख

(ब) कान

(स) दाँत

(द) सूँड

3. ये चित्र किस मौसम से संबंधित है -



(अ) ठंड

(ब) गर्मी

(स) बरसात

(द) बसंत

4. दिए गए चित्र में घर के पास है -



(अ) मंदिर

(स) पेड़

(ब) कुँआ

(द) खेत

5. यह संकेत चिन्ह दर्शाता है -



(अ) चिंता मत करो

(स) खतरा है

(ब) आगे बढ़ो

(द) सब ठीक है

कक्षा 5 - पर्यावरण अध्ययन
विद्यार्थियों में दक्षता की जाँच हेतु उपकरण

दक्षता – 1

जानकारी एकत्रित करना एवं दर्ज करना

1. पानी में रहने वाले जीवों में कौन-सा विशेष अंग पाया जाता है -
(अ) गाल (ब) गलफड़ा
(स) हाथ (द) पैर
2. इनमें से जुगाली करने वाला जानवर है -
(अ) घोड़ा (ब) भालू
(स) बिल्ली (द) भैंस
3. जमीन के नीचे (बिल) में रहने वाले जीव जंतुओं का जोड़ा है-
(अ) नेवला- चूहा (ब) बिल्ली- चूहा
(स) मछली- खरगोश (द) चूहा- कछुआ
4. इनमें से तेल नहीं निकाला जा सकता है-
(अ) सरसों (ब) सूरजमुखी
(स) जूट (द) नारियल
5. रेगिस्तान का जहाज है –
(अ) हाथी (ब) घोड़ा
(स) ऊंट (द) खच्चर

दक्षता – 2

समस्या पहचानना व विकल्प का सुझाव देना

1. हवा के अशुद्ध होने के कारण है –
(अ) पेड़ पौधे का अधिक होना (ब) कारखानों की संख्या अधिक होना
(स) तालाबों का अधिक होना (द) इमारतों की संख्या अधिक होना

2. मलेरिया का लक्षण है -

(अ) शरीर में दर्द होना	(ब) ठंड लगना
(स) बुखार आना	(द) उपरोक्त सभी
3. वर्षा के जल को एकत्र करना है -

(अ) दुग्ध संग्रहण	(ब) जल संग्रहण
(स) खाद्य संग्रहण	(द) मृदा संग्रहण
4. ऑक्सीजन मिलती है -

(अ) पीपल	(ब) मछली
(स) मेंढक	(द) कबूतर
5. पानी की गंदगी को साफ करते हैं -

(अ) शक्कर	(ब) नमक
(स) फिटकरी	(द) गुड़

दक्षता - 3

कल्पनाशीलता का विकास

1. आपके घर में आपकी बहन पैदा हुई, आपके घर परिवार में सदस्यों की संख्या होगी-

(अ) बढ़ेगी	(ब) कम होगी
(स) दुगुनी हो जाएगी	(द) वही रहेगी
2. अगर हमारे आस-पास हवा न हो तो -

(अ) आग लगेगी	(ब) दम घुटने लगेगा
(स) पानी गिरेगा	(द) कुछ नहीं होगा
3. पौधे के विकास का सही क्रम है -

(अ) फल, बीज, फूल	(ब) फूल, बीज, फल
(स) फूल, फल, बीज	(द) बीज, फूल, फल,
4. कंचे को पानी में डालने पर कंचा पानी में -

(अ) डूब जाएगा	(ब) तैरेगा
(स) सूख जाएगा	(द) पिघल जाएगा

5. मछली को पानी से बाहर निकाल दिया जाये तो वह -
(अ) जीवित रहेगी (ब) मर जाएगी
(स) तैरेगी (द) जमीन पर चलेगी

दक्षता – 4

परिकल्पना बनाना, उन्हें जाँचकर प्रयोग करना

1. तुम्हारे चारों ओर हवा है, इसका पता करोगे -
(अ) देखकर (ब) छूकर
(स) पकड़कर (द) महसूस कर
2. मेंढक जब पानी के अंदर रहता है, तो वह सांस लेता है-
(अ) खुली हवा से (ब) पानी से
(स) नाक से (द) चमड़ी से
3. आप रात के अंधेरे में मच्छर का पता लगाओगे -
(अ) उसको देखकर (ब) पकड़कर
(स) उसकी आवाज सुनकर (द) महसूस कर
4. हम रेनकोट पहनते है-
(अ) गर्मी (ब) सर्दी
(स) बरसात (द) पसंद
5. इग्लू बनता है
(अ) मिट्टी से (ब) बांसी
(स) ईंट से (द) बर्फ से

दक्षता – 5

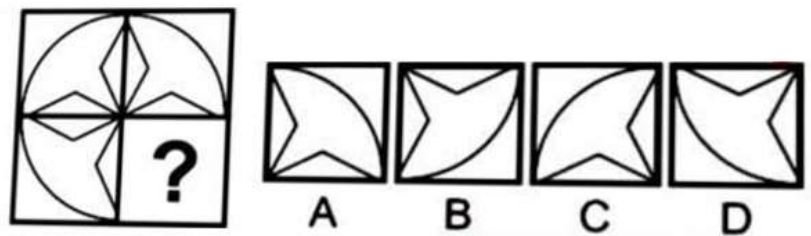
चित्र, नक्शा पढ़ना एवं बनाना

1. नक्शे में ऊपर की ओर दिशा होती है -
(अ) पूर्व (ब) पश्चिम
(स) उत्तर (द) दक्षिण

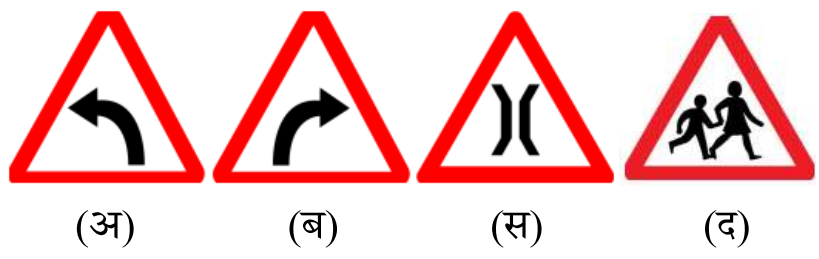
2.  यह संकेत चिन्ह है -

- (अ) सड़क का (ब) नदी का
(स) रेल लाइन का (द) कुएं का


3. चित्र पूरा करो-



4. बाँया मोड है -



5. नदी बह रही है -



- (अ) उत्तर (ब) दक्षिण
(स) पूर्व (द) पश्चिम